


1. Nokta ile ilgili verilen bilgilerden hangisi yanlıştır?

- A) Nokta boyutsuzdur.
- B) Büyük harfle isimlendirilir.
- C) Cetvelle ölçülür.
- D) Kalem ucunun kağıda bıraktığı iz bir nokta modelidir.

2.



Yukarıda modellenen geometrik şeklin sembol ile gösterimi aşağıdakilerden hangisidir?

- A)  $[AB]$       B)  $AB$       C)  $AB]$       D)  $[AB]$

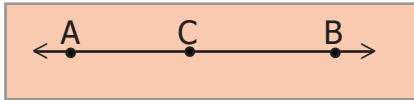
3.



Yukarıda modellenen geometrik şeklin sembol ile ilgili aşağıdakilerden hangisi yanlıştır?

- A) Cetvel ile uzunluğu ölçülemez.
- B)  $[KT]$  şeklinde sembolle gösterilir.
- C) Sayılmayacak kadar noktadan oluşmuştur.
- D) Işının başlangıç noktası T dir.

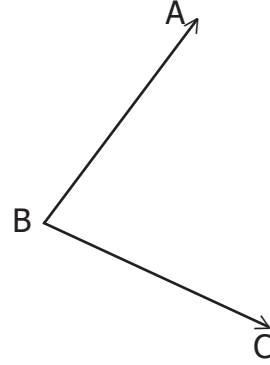
4.



Yukarıda verilen şekil ile ilgili aşağıdakilerden hangisi yanlıştır?

- A)  $[AC]$  sembolü ile gösterilen bir geometrik şekil içerir.
- B)  $AB$  ile gösterilen geometrik şeklin başlangıç noktası A'dır.
- C)  $[CB]$  geometrik şeklinin uzunluğu cetvelle ölçülemez.
- D)  $[BC]$  geometrik şekli ışın olarak adlandırılır.

5.

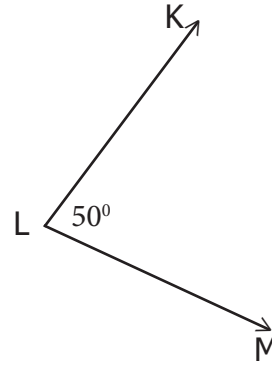


Yukarıda verilen geometrik şekil ile ilgili aşağıdakilerden hangisi doğrudur?

- A)  $[AB]$  ve  $[CB]$  ışınlarından oluşur.
- B) Açığı oluşturan kolların uzunlukları cetvel yardımı ile belirlenebilir.
- C)  $\hat{C}AB$  şeklinde sembolle gösterilebilir.
- D) B noktası açının köşesidir.

ÇAPRAZ  
MATEMATİK

6.



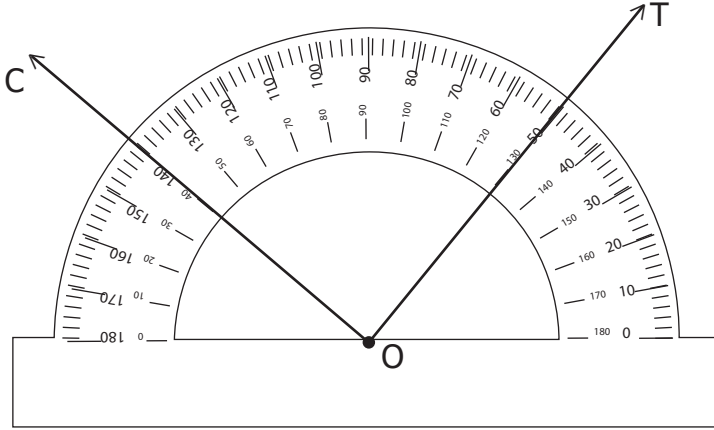
Yukarıda verilen açının ölçüsünün doğru gösterimi aşağıdakilerden hangisidir?

- A)  $|KLM| = 50 \text{ cm}$       B)  $|KM| = 50^\circ$
- C)  $s(\hat{KML}) = 50^\circ$       C)  $s(\hat{L}) = 50^\circ$

7.  $[TS]$  ve  $[TK]$  kolları ile oluşturulan açının aşağıdakilerden hangisidir?

- A)  $\hat{TSK}$       B)  $\hat{STK}$       C)  $\hat{KST}$       D)  $\hat{K}$

8.



Yukarıda verilenlere göre COT açısı kaç derecedir?


A) 40

B) 50

C) 90

D) 140

9.



Yukarıda cetvel yardımı ile farklı uzunluktaki doğru parçalarının uzunlukları ölçülmek istenmiştir. K noktası cetvelde 2, M noktası 19 hizasındadır.  $|LM| = 13$  cm olduğuna göre  $|KL|$  kaç cm dir?

A) 5

B) 6

C) 7

D) 8